


## Comprendre un énoncé sur les durées



Lis l'énoncé et complète le schéma ci-dessous.

Léo part en voyage. Il prend le train à 10h50 à la gare de Lyon. Le voyage dure 30 minutes. Il arrive donc à destination à 11h20.




## Comprendre un énoncé sur les durées



Lis l'énoncé et complète le schéma ci-dessous.

Jules a pris l'avion à 13h25. Il est arrivé à destination à 15h56. Son vol a donc duré 2h31.




## Comprendre un énoncé sur les durées



Lis l'énoncé et complète le schéma ci-dessous.

Etienne est arrivé à destination à 6 h 50. Son voyage a duré 2 h15. Il était donc parti à 4 h 35.




## Comprendre un énoncé sur les durées



Lis l'énoncé et complète le schéma ci-dessous.

Patricia met 5 minutes pour aller à l'école. Quand elle doit être à l'école à 11 h 30 pour aller chercher les enfants, elle part de chez elle à 11h25.




## Comprendre un énoncé sur les durées



Lis l'énoncé et complète le schéma ci-dessous.

Clémence écoute sa radio de 7h45 à 8h10. Cela signifie donc qu'elle l'écoute pendant 25 minutes.




## Comprendre un énoncé sur les durées



Lis l'énoncé et complète le schéma ci-dessous.

Pierre et son camarade Jean laissent leur voiture sur le parking de l'étang de Malva et partent en randonnée en forêt sur le circuit des Pots à 8h45.

Ils marchent pendant 1h30 min. Ils sont donc de retour à 10h15.




## Comprendre un énoncé sur les durées



Lis l'énoncé et complète le schéma ci-dessous.

Pierre et son camarade Jean laissent leur voiture sur le parking de l'étang de Malva et partent en randonnée en forêt sur le circuit des Pots à 8h45.

Ils marchent pendant 1h30 min. Ils sont donc de retour à 10h15.

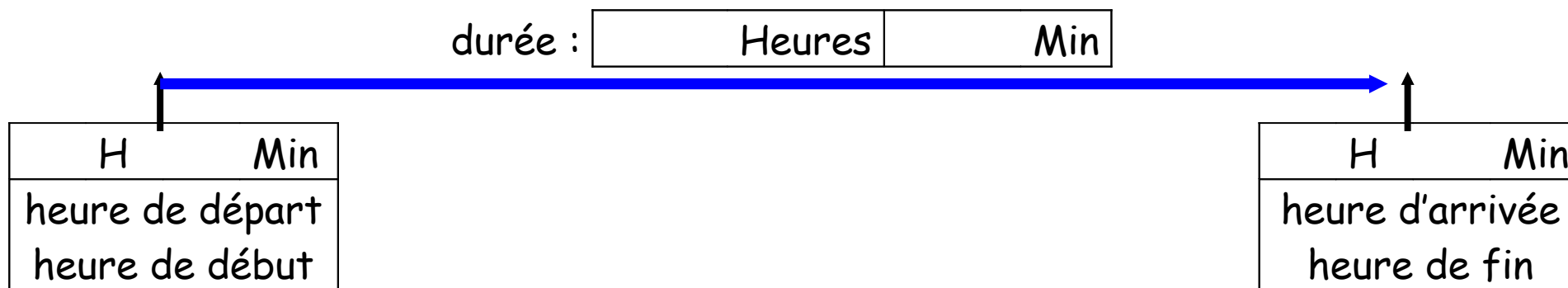


## Comprendre un énoncé sur les durées



Lis l'énoncé et complète le schéma ci-dessous.

Un après-midi de classe se déroule de 13h30 à 16h30. Cela dure donc 3 heures.




## Comprendre un énoncé sur les durées



Lis l'énoncé et complète le schéma ci-dessous.

Un film commence à 20h30 et se termine à 22h15.  
Il a duré 1 h 45.




## Comprendre un énoncé sur les durées



Lis l'énoncé et complète le schéma ci-dessous.

Papa a fait une tarte aux pommes. La tarte a cuit 35 minutes. Il a sorti la tarte à 11h15. Il l'a mise au four à 10h40.




## Comprendre un énoncé sur les durées



Lis l'énoncé et complète le schéma ci-dessous.

Un voyageur prend le T.G.V. à Paris à 6 h 25 min et arrive à Lyon à 8 h 20 min. La durée du trajet est de 1 h 55.



## Comprendre un énoncé sur les durées



Lis l'énoncé et complète le schéma ci-dessous.

Une cuisinière sait qu'il faut 2h15 pour que le poulet soit cuit. Elle veut manger à 13h10, donc elle va la mettre au four à 10h55.

