


Écriture décimale.

Regarde le nombre et répond aux questions.

836 211, 741



Quel est le chiffre des unités :

Quel est le chiffre des centièmes :

Quel est le chiffre des dizaines de mille :

7 est le chiffre des :


6 est le chiffre des :

2 est le chiffre des :

Écriture décimale.

Regarde le nombre et répond aux questions.

249 368, 527



Quel est le chiffre des dixièmes :

Quel est le chiffre des centaines de mille :

Quel est le chiffre des centièmes :

2 est le chiffre des :


8 est le chiffre des :

7 est le chiffre des :

Écriture décimale.

Regarde le nombre et répond aux questions.

682 435, 578



Quel est le chiffre des unités de mille :

Quel est le chiffre des millièmes :

Quel est le chiffre des unités :

4 est le chiffre des :


6 est le chiffre des :

3 est le chiffre des :

Écriture décimale.

Regarde le nombre et répond aux questions.

758 089, 568



Quel est le chiffre des dizaines de mille :

Quel est le chiffre des dizaines :

Quel est le chiffre des millièmes :

9 est le chiffre des :


6 est le chiffre des :

0 est le chiffre des :

Écriture décimale.

Regarde le nombre et répond aux questions.

744 301, 106



Quel est le chiffre des dizaines :

Quel est le chiffre des unités de mille :

Quel est le chiffre des dixièmes :

7 est le chiffre des :


6 est le chiffre des :

3 est le chiffre des :

Écriture décimale.

Regarde le nombre et répond aux questions.

105 104, 127



Quel est le chiffre des millièmes :

Quel est le chiffre des centaines :

Quel est le chiffre des dizaines
de mille :

5 est le chiffre des :


4 est le chiffre des :

2 est le chiffre des :

Écriture décimale.

Regarde le nombre et répond aux questions.

178 102, 198



Quel est le chiffre des dixièmes :

Quel est le chiffre des unités de mille :

Quel est le chiffre des millièmes :

7 est le chiffre des :


2 est le chiffre des :

9 est le chiffre des :

Écriture décimale.

Regarde le nombre et répond aux questions.

306 927, 401



Quel est le chiffre des centaines de mille :

Quel est le chiffre des centaines :

Quel est le chiffre des centièmes :

6 est le chiffre des :


4 est le chiffre des :

2 est le chiffre des :

Écriture décimale.

Regarde le nombre et répond aux questions.

194 830, 754



Quel est le chiffre des dixièmes :

Quel est le chiffre des centaines de mille :

Quel est le chiffre des unités :

8 est le chiffre des :


3 est le chiffre des :

5 est le chiffre des :

Écriture décimale.

Regarde le nombre et répond aux questions.

569 940, 863



Quel est le chiffre des unités de mille :

Quel est le chiffre des centièmes :

Quel est le chiffre des centaines :

5 est le chiffre des :


8 est le chiffre des :

3 est le chiffre des :

Écriture décimale.

Regarde le nombre et répond aux questions.

578 839, 476



Quel est le chiffre des centaines :

Quel est le chiffre des dizaines de mille :

Quel est le chiffre des dizaines :

9 est le chiffre des :


6 est le chiffre des :

5 est le chiffre des :

Écriture décimale.

Regarde le nombre et répond aux questions.

943 578, 310



Quel est le chiffre des dizaines :

Quel est le chiffre des centaines de mille :

Quel est le chiffre des unités :

5 est le chiffre des :

0 est le chiffre des :

3 est le chiffre des :